

分科測驗（111 學年度起適用）


地理考科參考試卷

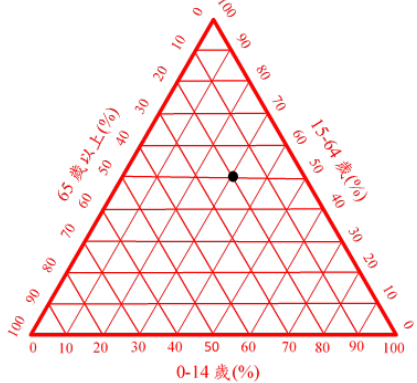
參考答案



第壹部分、選擇題

題號	參考答案	題號	參考答案
1	C	16	B
2	A	17	B
3	B	18	D
4	D	19	C
5	D	20	B
6	D	21	B
7	A	22	B
8	A	23	D
9	B	24	C
10	D	25	D
11	B	26	D
12	A	27	A
13	C		
14	D		
15	D		

第貳部分、混合題或非選擇題

題號	參考答案	
28	作法	見解
	<input checked="" type="checkbox"/> 是 <input type="checkbox"/> 否	圖 10 因吹北風往南空污愈高，圖 11 知該地多為西南風。火災時間尺度短，防護措施需同時考量氣象與氣候，故同心圓為最佳折衷作法。
29	D	
30		
31	優點	「養水」的施行使該地區停止抽取地下水，以減緩地層下陷。
	隱憂	架設太陽能板可能會污染農地，永遠無法回復其生態自淨能力。
32	D	
33	作物	見解
	蔗糖、咖啡	3、4
34	B	
35	地理學傳統	判斷理由
	人地關係	該圖可以反應自然環境與人類活動對水質的雙重影響。
	或	
	地理學傳統	判斷理由
	區域傳統	探討流域中人文活動與自然環境因素影響，
屬於為綜合考量的區域傳統。		
或		

題號	參考答案		
	地理學傳統	判斷理由	
	空間傳統	因為該生使用的資料都是某指標的分布情形，用疊圖呈現空間上的關係。	
36	B		
37	D		
38	作法		見解
	<input type="checkbox"/> 苗栗縣竹南鎮的塭內 <input checked="" type="checkbox"/> 臺中市和平區的梨山		山區地形利種茶，且此區人口外移嚴重，缺乏勞動力，故引進外勞。
	<input type="checkbox"/> 南投縣草屯鎮的溪底仔		
	<input type="checkbox"/> 臺南市將軍區的青鯤鯓		
39	D		
40	A		
41			
42	C		
43	原因	河流流幅增寬、流速降。	
	或 原因	水流速度變慢。	

題號	參考答案	
44		<p>判斷依據：</p> <p>因為礦區缺乏植被覆蓋且產業道路和主幹道相接。</p>
		<p>判斷依據：</p> <p>因為礦區在衛星影像中會呈現灰白色。</p>